

K T A

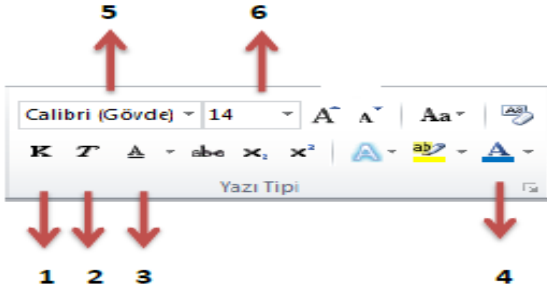
1. Microsoft Word programında yukarıdaki butonların görevleri aşağıdakilerden hangisidir?

- a) Kalın Eğik Altı Çizili
- b) Altı Çizili Kalın Eğik
- c) Eğik Altı Çizili Kalın
- d) Kalın Altı Çizili Eğik

2. Hangisi kötü amaçlı yazılımların genel adıdır?

- a) Virüs
- b) Malware
- c) Spyware
- d) Adware

3. Aşağıdaki numaralandırılmış araçlar ne işe yarar ? Doğru sıralamayı yandaki tabloda işaretleyiniz.



	1	2	3	4	5	6
a)	Kalın	Eğik	Yazı Boyutu	Yazı Rengi	Yazı Tipi	Altı Çizili
b)	Eğik	Eğik	Altı Çizili	Yazı Boyutu	Yazı Tipi	Yazı Boyutu
c)	Yazı Rengi	Kalın	Altı Çizili	Sayfa Rengi	Yazı Boyutu	Yazı Boyutu
d)	Kalın	Eğik	Altı Çizili	Yazı Rengi	Yazı Tipi	Yazı Boyutu

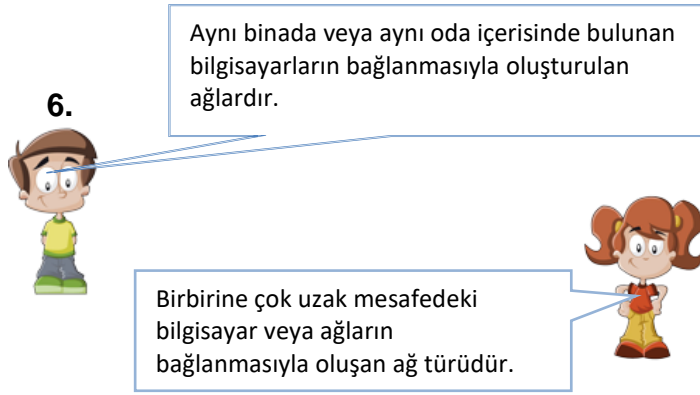
4. Aşağıdakilerden hangisi teknolojinin olumsuz etkilerinden biridir?

- a) Yeni iş sahalarının oluşması
- b) Hayatı kolaylaştırması
- c) İnsanlar arası iletişimi azaltması
- d) Bilgiye kısa sürede ulaşmayı sağlaması

5. Aşağıdakilerden hangisi başkası tarafından bulunması zor güçlü bir şifredir?

- A)123456
- B)abcdef
- C)qwerty
- D) A58+t*y2G

6.



Aynı binada veya aynı oda içerisinde bulunan bilgisayarların bağlanmasıyla oluşturulan ağlardır.

Birbirine çok uzak mesafedeki bilgisayar veya ağların bağlanmasıyla oluşan ağ türüdür.

Umut

Eda

Yukarıda Umut ve Eda'nın bahsetmiş oldukları ağ türleri sırası ile hangi şıkta doğru verilmiştir ?

Umut

Eda

- | | |
|----------------------|-------------------|
| A) Geniş Alan Ağı | Yerel Alan Ağı |
| B) Yerel Alan Ağı | Geniş Alan Ağı |
| C) Yerel Alan Ağı | Metropol Alan Ağı |
| D) Metropol Alan Ağı | Geniş Alan Ağı |

7. Aşağıdakilerden hangisi başkası tarafından bulunması zor güçlü bir şifredir?

- A) Ahmet123
- B) Ahmet-123
- C) @hm3t-132!
- D) Ahmet123456

8. İnternet sitelerinde kullanılan bazı uzantılar sitenin türü hakkında bize bilgi verir.
Örneğin “edu” uzantılı siteler Üniversiteler için kurulmuş olan sitelerdir.

Yukarıdaki bilgiye göre aşağıdaki site uzantılarından hangisi devlet sitelerinde kullanılır?

- A) .com
B) .org
C) .gov
D) .net



9. Sosyal ağlarda aşağıdaki bilgilerimizden hangilerini paylaşmamalıyız.

- A) Telefon numaramız
B) Tc kimlik numaramız
C) Ev adresimiz
D) Hepsi



10. Dünya genelinde bilgisayarları birbirine bağlayan en geniş ağ aşağıdakilerden hangisidir?

- A) LAN(Yerel Alan Ağı) C) Bulut
B) Modem D) İnternet

11. Aşağıdakilerden hangisi bilgisayar ağlarının kullanım amaçlarından birisi değildir .

- A) Yazıcı paylaşımı.
B) Dosya indirme.
C) Uzaktan bilgisayar yönetimi.
D) Karşılıklı oyun oynama.



12.) Aşağıda verilen site uzantıları ile bu uzantıları hangi tür internet sitelerinin kullandığını eşleştiriniz.

.edu	.gov	.com
.k12	.mil	.org

	Askeri internet siteleri.
	Dernek ve vakıf siteleri.
	Devlet daireleri siteleri.
	Üniversite siteleri.
	İlköğretim ve lise siteleri

13. Aşağıda verilen internet sitelerinden hangisi yanlış yazılmıştır?

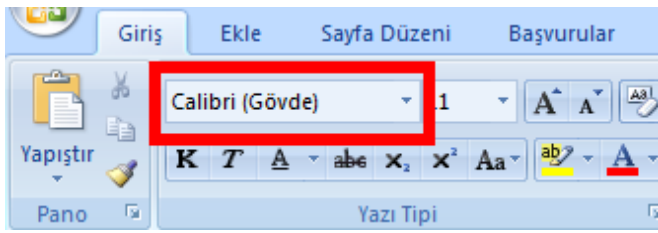
- a) www.facebook.com
b) www.meb.gov.tr
c) www.bilişimciruh.com
d) www.google.com

14. Telefonla sizi arayan biri polis olduğunu, kimlik bilgilerinizin bir terör örgütü tarafından ele geçirildiğini ve kullanıldığını söyledi. Sizi bu durumdan ve cezadan kurtarabileceğini, bunun için belirttiği adrese veya banka hesabına para göndermenizi söyledi.

Bu durumda aşağıdakilerden hangisini yapmanız doğru ve güvenli olur?

- A) İsteddiği parayı hemen yatırıyorum.
- B) Banka bilgilerimi ve şifrelerimi söylerim.
- C) Polis karakoluna gidip doğruluğunu sorarım.
- D) İnanmayıp onu dövmek için verdiği adrese giderim

15. Word'de bulunan, aşağıdaki ekran görüntüsünde gösterilen, kare içinde görünen araç ile ne yapılır?



- A) Yazı tipi büyüklüğü ayarlanır
- B) Yazı rengi değiştirilir
- C) Yazı italik yazılır
- D) Yazının tipi değiştirilir



16. Paint programında yanda gösterilen araç aşağıdakilerden hangisidir?

- A) Renkle doldur
- B) Fırça
- C) Kalem
- D) Silgi

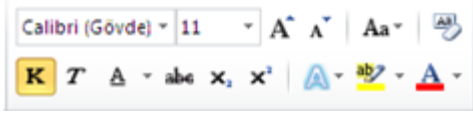
17. Aşağıdaki e-posta adreslerinin hangisinin yazımında bir yanlışlık yapılmamıştır?

- A) umutaraş@gmail.com
- B) umutaras.gmail.com
- C) umutaras@com
- D) umutaras@gmail.com

18. Word 2010 nedir?

- a) Hesap Programıdır
- b) Tablo - Grafik Programıdır
- c) Kelime İşlem Programıdır
- d) İşletim Sistemidir

19.



Word 2010 programında

yukarıdaki şekilde görülen bölüm ile hangi işlemler

yapılır?

- a) Paragraf ile ilgili işlemler
- b) Pano ile ilgili işlemler
- c) Yazı tipi ile ilgili işlemler
- d) Düzenleme ile ilgili işlemler

20.  Yandaki butonun görevindedir?

- a) Altı Çizili
- b) Aç
- c) Araştır
- d) Yazı Tipi Rengi

21.  Yandaki simgenin görevi aşağıdakilerden hangisidir?

- a) Büyük/Küçük Harf değiştir
- b) Yazı Tipi Değiştir
- c) Bul/Değiştir
- d) Yazıyı Büyütür

22.  Yandaki simgelerin görevi aşağıdakilerden hangisidir?

- e) Üst simge / Alt Simge
- f) Yazı Tipi Büyüt / Yazı Tipi Daralt
- g) Bul/Değiştir
- h) Girintiyi Azalt / Girintiyi Artır

23.  Yandaki butonun görevi nedir?

- a) Yazı Tipi Boyutu
- b) Yakınlaştır
- c) Yazı Tipi
- d) Biçim Boyayıcısı

24.  Yandaki butonun görevindedir?

- a) Yazı Tipi Boyutu
- b) Yazı Tipi
- c) Altı Çizili

d) Stil

25.  Yandaki butonun görevindedir?

- a) Kalın
- b) Kaydet
- c) İtalik
- d) Altı çizili



26. Yandaki simgenin görevi aşağıdakilerden hangisidir?

- a. Biçimlendirmeyi temizler
- b. Biçimlendirme uygular
- c. Metin vurgu düğmesi
- d. Metin efektleri düğmesi



27. Yandaki butonun görevindedir?

- a) Sağa Hizala
- b) Ortala
- c) Sola Hizala
- d) Yasla



28. Yandaki butonun görevindedir?

- a) Sağa Hizala
- b) Ortala
- c) Sola Hizala
- d) Yasla



29. Yandaki butonun görevi nedir?

- a) Sayfayı sütunlara böler
- b) Madde numaralandırmasını verir
- c) Artan sıralama yapar
- d) Sayfa Numarası ekler



30. Yandaki butonun görevi nedir?

- a. Biçimlendirmeyi temizler
- b. Biçimlendirme uygular
- c. Metin vurgu rengi
- d. Metin efektleri düğmesi