


1. Excel' de formüller hangi işaretle başlar?

- a) +
- b) -
- c) =
- d) /

2. Aşağıdaki seçeneklerden hangisinde hücre adresi doğru olarak yazılmıştır?

- a) A1
- b) AB
- c) 1A
- d) A

3.  yandaki şekil Excel'de neyi gösterir?



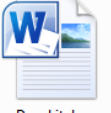

- a) Çalışma sayfalarını
- b) Sütun başlıklarını
- c) Satır başlıklarını
- d) Sayfanın ismini

4. Yandaki şekil Excel'de neyi ifade eder?



- a) Çalışma sayfalarını
- b) Sütun başlıklarını
- c) Satır başlıklarını
- d) Sayfanın ismini

5. Aşağıda verilen simgelerden hangisi "EXCEL" dosyasına aittir?

- a)  BİLGİ YARIŞMASI
- b) 
- c)  Ders kitabım
- d)  WMV

6. Microsoft Excel programı temel olarak ne amaçla kullanılır?

- a) Hesaplama ve tablolama
- b) Resim çizme programıdır
- c) İşletim sistemidir.
- d) Kelime işlemci programıdır.



7. Excel programında "Umut" yazan hücrenin adı aşağıdakilerden hangisidir?

	A	B	C	D
1				
2			Umut	
3				
4				

- A) A2
- B) 2C
- C) C2
- D) C3

8. İnternete bağlanmayı sağlayan donanım nedir?

- a) Kasa
- b) Monitör
- c) Modem
- d) Mouse

9. Aşağıdakilerden hangisi bilgisayar ağlarının kullanılma amaçlarındanıdır?

- A) Yazıcı, tarayıcı gibi donanımları paylaşmak.
- B) Karşılıklı oyun oynamak ve uygulama yazılımı paylaşmak.
- C) Dosya alıp göndermek.
- D) Hepsi

10. Berna yaptığı ödevine resim koyarak görselleştirmek istemektedir. Berna'nın ödevine ekleyeceği dosya aşağıdakilerden hangisi olabilir?

- a) Kelebek.pdf
- b) Kelebek.xlsx
- c) Kelebek.jpg
- d) Kelebek.txt

11. E-Devletin web site adresi aşağıdakilerden hangisidir?

- a) www.turkiye.gov.tr
- b) www.devletim.gov.tr
- d) www.turkiye.com.tr
- d) www.elektronikdevlet.gov.tr

12. E-Devlet sistemine giriş yapabilmek için şifremizi nereden alabiliriz?

- a) Valilik veya Kaymakamlıklardan
- b) PTT Şubelerinden
- c) Nüfus Müdürlüğünden
- d) Belediyelerden

13. Aşağıdakilerden hangisi E-Devletin faydaları arasında yer almaz?

- a) Zamandan kazanç sağlanacaktır.
- b) Maliyetler düşecek ve verimlilik artacaktır.
- c) Memnuniyet artacaktır.
- d) Kâğıt bağımlılığı ve kullanımını artacaktır.

14. Aşağıdakilerden hangisi nesnelere interneti ile ortaya çıkan bir teknolojidir?

- a) Radyo
- b) Akıllı ev Teknolojileri
- c) TV
- d) Fotokopi Makinesi

15. Aşağıdakilerden hangisi TÜBİTAK tarafından geliştirilen yerli ve milli işletim sistemimizin adıdır?

- a) Windows 10
- b) Linux
- c) Android
- d) Pardus

16. Bilgi ve iletişim teknolojilerini kullanarak bir birey ya da gruba karşı yapılan teknik ya da ilişkisel tarzda zarar verme davranışlarına ne denir?

- a) Güvenlik Duvarı
- b) Siber kavgası
- c) Siber zorbalık
- d) e- devlet uygulamaları

17. Telif hakları korunan bir eserin sahibinden izin almadan kaçak yollarla çoğaltılmış olan kopyasına ne denir?

- a) Beta
- b) Lisanslı
- c) Korsan
- d) Demo

18. Facebook, Twitter, Youtube, Instagram gibi sosyal medya sitelerinde hangi davranış etik (doğru) değildir?

- a) Arkadaşımızın fotoğrafını veya videosunu yayınlamadan önce ondan izin almalıyız.
- b) Hakaret içeren yorumlar yapmamalıyız.
- c) Özel bilgilerimizi hiç korkmadan paylaşmalıyız.
- d) Türkçe imla kurallarına dikkat ederek içerik paylaşmalıyız.

19. Güçlü şifre oluşturmamız için aşağıdaki kurallardan hangisi **yanlıştır**?

- a) Şifremiz en az 8 basamaklı olmalıdır.
- b) Tamamı sayılardan olmalıdır.
- c) İçerisinde büyük ve küçük harf bulundurmalıdır.
- d) İçerisinde özel karakter bulundurmalıdır.

20. Aşağıdakilerden hangisi diğerlerine göre daha güçlü bir parola örneğidir?

- a) 123456789
- b) abcdefgh1
- c) Ahmet123
- d) b1R0L-78aY*

21. Ali internette gezinirken dijital ayak izi bırakmak istememektedir. Dijital ayak izi bırakmaması için hangisi **yanlış** bir tavsiyedir?

- a) Bir takma isim kullan. Asla profil resmi olarak kendi resmini kullanma!
- b) Sosyal medya hesapların varsa, gizlilik ayarlarından “özel” seçeneğini işaretle!
- c) Arkadaşlarından sosyal medya hesaplarında seni etiketlemelerini iste.
- d) Arama motorlarına tırnak içinde adını ve soyadını yaz. Adın ve soyadını tam yazdığın sayfalar varsa (forum, yorumlar vb.) bu sayfalardaki sana ait içerikleri sil.

22. **www.eba.____.tr**

Yukarıda verilen Eğitim Bilişim Ağı (EBA)ya ait internet adresinde boş bırakılan yere ne getirilmelidir?

- a) com
- b) mil
- c) edu
- d) gov

23. İki ya da daha fazla bilgisayarın birbirine bağlanmasıyla oluşan yapıya ne ad verilir?

- a) E-Okul
- b) E-Posta
- c) Bilgisayar Ağı
- d) AnaKart

24. Bir bilişim sistemine hukuka aykırı olarak girmek, orada kalmaya devam etmek, bilişim sisteminden izinsiz veri kopyalamak, sistemi erişilmez kılmak ve çalışmaz hale getirmek aşağıdakilerden hangisini ifade eder?

- a) Şifre Güvenliği
- b) Bilgi güvenliği
- c) Telif Hakkı
- d) Bilişim suçları

25. Aşağıdakilerden hangisi Eğitim Bilişim Ağı'nın adresidir?

- a) eba.com
- b) eba.net
- c) eba.gov.tr
- d) eba.org

26. Aşağıdakilerden hangisi arama motoru değildir

- A) Yandex
- B) Google
- C) Yahoo
- D) kitaplar.com

27. Aşağıdakilerden hangisi internet tarayıcısı değildir?

- a) İnternet Explorer
- b) Google Chrome
- c) Google
- d) Mozilla Firefox

28. Aşağıda verilen şekilde boş bırakılan yere aşağıdakilerden hangisi yazılmalıdır?

Gereksiz, tekrar eden, doğruluğu kanıtlanmamış ya da yanlış birçok bilgi internette bulunuyor.

- A) Bilgi Kirliliği
- B) Bilgi Yönetimi
- C) Bilgi Güvenliği
- D) Bilgi Felsefesi

29. Bilişim teknolojileri sınıfında kullanılan ağ türü aşağıdakilerden hangisidir?

- A) NAN (Olmayan Alan Ağı) B) MAN (Metropol Alan Ağı)
- C) WAN (Geniş Alan Ağı) D) LAN (Yerel Alan Ağı)

30. Bilgisayarımızı Zararlı yazılımlardan (Virüslerden) korumak için aşağıdakilerden hangisini yapmamız uygun olmaz?

- A) Bilgisayarımıza Antivirüs yazılımı yüklemeliyiz.
- B) Kimden geldiğini bilmediğimiz e-postaları açmamalıyız.
- C) Kesinlikle internete girmemeliyiz.
- D) Güvenilir olmayan internet sitelerinden dosya indirmemeliyiz.

31. Tüm kullanma haklarını ücret karşılında satın aldığımız yazılım hangisidir?

- a) Lisanslı yazılım
- b) Ücretsiz yazılım
- c) Demo yazılım
- d) Paylaşılan yazılım

32. Aşağıda verilen donanımlardan hangisi internet bağlantısı için gerekli değildir?

- A) Modem
- B) Ağ Kartı
- C) Ses Kartı
- D) Telefon Hattı



33. Bilge aşağıdaki arama ifadelerinden hangisini yazarsa en az sonuç çıkar?

- A) matematik OR kesir
- B) "6.sınıf matematik kesir"
- C) matematik kesir
- D) 6.sınıf matematik kesir

34. Kullanıcıların belirli konular hakkında fikir alışverişinde bulunduğu web siteleridir. Sitedeki akış konu merkezlidir. Üyelerin admin, moderatör ve üyelik gibi rütbeleri vardır. Yukarıdaki bilgide anlatılan iletişim yazılımı aşağıdakilerden hangisidir?

- A) Wiki C) Blog
- B) Forum D) Sosyal medya

35.Bulaştığı bir bilgisayarda dosyaları ve klasörleri kilitleyip, şifreleyen sonra da bunun çözülmesi için para vb taleplerde bulunulmasını sağlayan zararlı yazılım türü aşağıdakilerden hangisidir?
A) Truva atı
B) Solucan
C) Casus yazılım
D) Fidye yazılımı

36.“Telefon hattı üzerinden kendine bağlanan bilişim cihazlarını internete ulaştıran cihaza _____ denir.” Bu ifadede boşluğa aşağıdakilerden hangisi gelmelidir?
A) Ağ kartı
B) Splitter
C) Dağıtıcı
D) Modem

37. İlk modern bilgisayar olarak bilinen bilgisayar hangisidir?

- a) Toshiba
- b) Eniac
- c) IBM
- d) Vestel