

```
START
forward 5
```

1- Yandaki kodun işlevi nedir?

- a) İleri git
- b) Beş adım İleri git
- c) 5 kere yap
- d) Hiçbiri

```
START
turn right
```

2- Yandaki kod bloğu hangi işlemi gerçekleştirir?

- a) Sağa Dön
- b) Sola Dön
- c) Geriye Dön
- d) İleriye Dön

3-

```
START
forward 2
turn right
forward 3
turn left
forward 2
```

Yandaki blok kodu kaç kere sağa kaç kere sola döner?

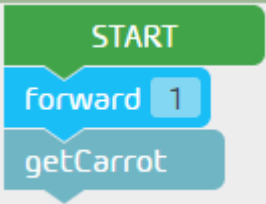
- a) 1 sağ 1 sola döner.
- b) 1 sola 2 sağa döner.
- c) 2 sağa 2 sola döner.
- d) 2 sola 1 sağa döner.

4-

```
START
turn back
forward 4
```

Yandaki kod bloğu çalıştırıldığında hangi yöne hareket eder?

- a) 4 adım git geriye dön
- b) Geri ye dön
- c) 4 adım git
- d) Geriye dön 4 adım git



5- Havucu alma komutu hangisidir?

- a) Start
- b) forward()
- c) getCarrot()
- d) Hiçbiri

6-




Raku'nun yukarı çıkabilmesi için hangi kod gereklidir?

- a) forward()
- b) forwardDown()
- c) forwardUp()
- d) turn(back)

7-

1. Başla.
2. 1 kare ilerle.
3. Havucu al.
4. Bitir.

Yukarıda algoritması verilenin kod bloğu nasıl olur?

a) 

b) 

c) 

d) 

A Scratch code block for a turtle. It is a green flag-shaped block with a blue 'forward' block inside. The 'forward' block has a small grey box with the number '3' inside it.

8- Yandaki kod bloęu neyi hareket ettirir?

- a) Kablumbaęa
- b) Tavşan
- c) Rakun
- d) Aslan

A Scratch code block starting with a 'START' block. It contains a sequence of blocks: 'forward 1', 'getBone', 'forward 1', 'getBone', 'forward 1', and 'getBone'.

9- Bloęunda ka kere kemięi alır?

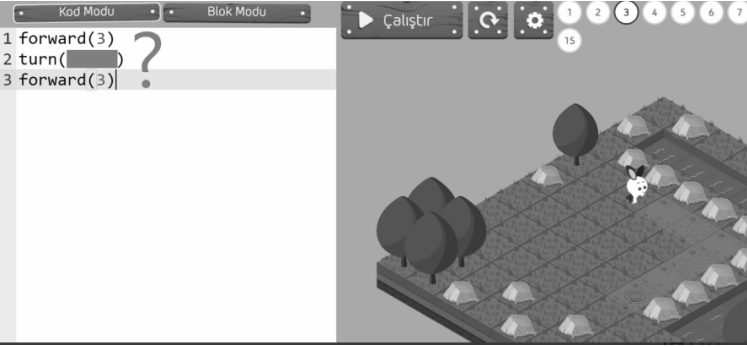
- a) 2
- b) 3
- c) 4
- d) 5

10-

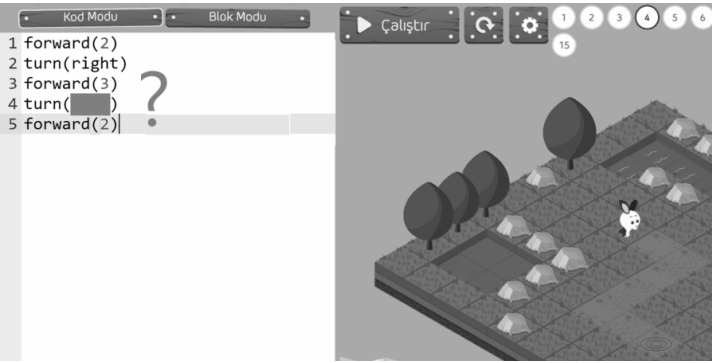
A Scratch code block starting with a 'START' block. It contains a 'repeat' block with the number '6' in a grey box. Inside the 'repeat' block are two sub-blocks: 'forward' and 'getBone'.

Bloktaki forward() ve getBone() komutları ka kere alıřır?

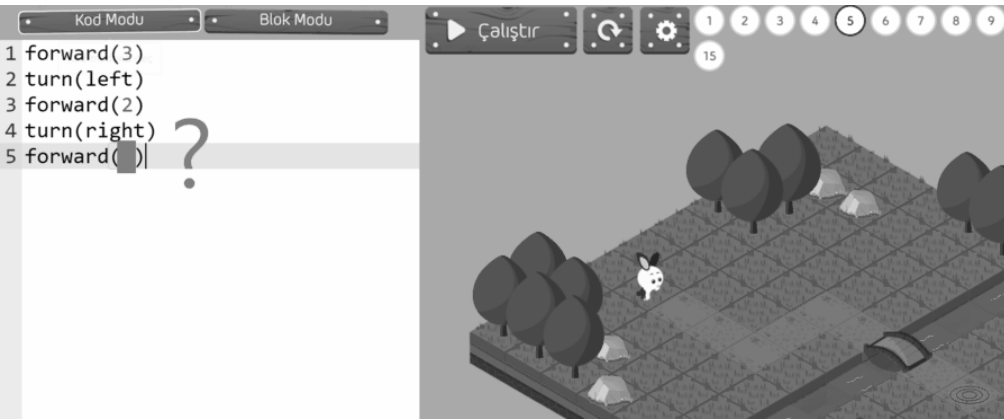
- a) 3
- b) 4
- c) 5
- d) 6

11-  Soru işaretli alana hangi kod yazılmalıdır?

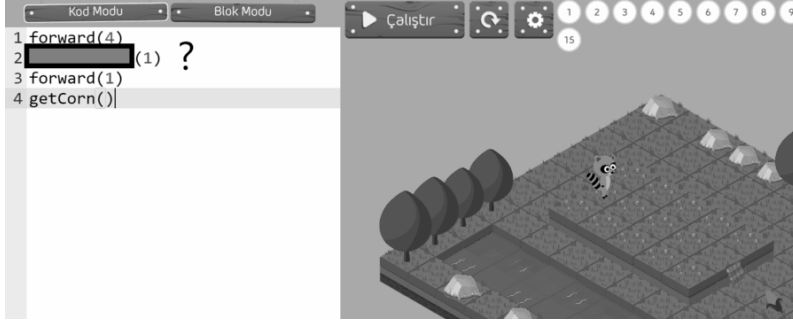
- a) Right
- b) left
- c) back
- d) right

12-  Soru işaretli alana hangi kod yazılmalıdır?

- a) Right
- b) left
- c) back
- d) Left

13-  Soru işaretli alana hangi kod yazılmalıdır?

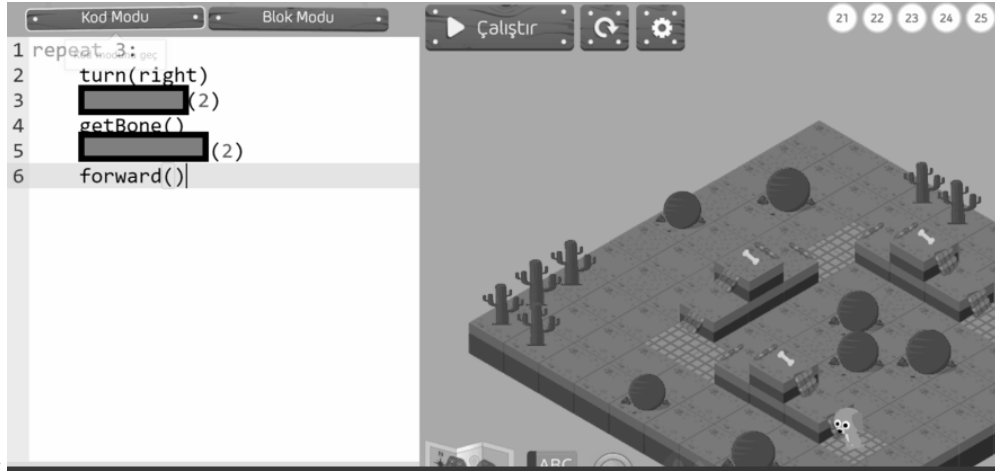
- a) 1
- b) 2
- c) 3
- d) 4



14-

Soru işaretli alana hangi sırasıyla kod yazılmalıdır?

- a) forwardUp(1)
- b) forward(1)
- c) turn(left)
- d) forwardDown



15-

- a) forwardUp()
forwardUp()
- b) forwardUp()
forwardDown()
- c) forwardDown()
forwardUp()
- d) forwardDown()
forwardDown()

16-Aşağıdakilerden hangisi blok tabanlı kodlamaya örnek olarak verilebilir?

- a) Microsoft Office Word
- b) KodlaBüyü
- c) Paint
- d) Microsoft Office Powerpoint

17-

KodlaBüyü programında hem blok modu hem de kod modu vardır.

Doğru

Yanlış

18-



Görülen kod bloklarının görevi nedir?

- a) (3 ilerle, Kemiği Al, Geri Dön, 3 ilerle) 2 defa tekrarla
- b) 3 ilerle, Kemiği Al, Geri Dön, 3 ilerle
- c) 2 ilerle, Geri Dön, 1 ilerle, Kemiği Al
- d) 3 ilerle, Sağa Dön, Kemiği Al, Geri Dön

19- Kodlabüyü programında bir kod bloğunu birden fazla çalıştırmak için hangi kod kullanılır?

- a) Repeat
- b) Forward
- c) Turnback
- d) Get carrot